

Примерные карточки - опросники
к контрольно - обобщающему уроку
по теме «Перекрёстки»
(4 класс)

Цель: проверить знания учащихся по изученной теме;
воспитывать дисциплинированность учащихся при переходе
перекрёстков;
развивать внимание и наблюдательность учащихся


Каждый участник контрольно - обобщающего урока получает индивидуальную карточку - опросник, на выполнение которой отводится 5 минут урока. По истечении этого времени собираются ответы учащихся и анализируются учителем или учащиеся могут обменяться карточками – опросниками (работа в парах) и проанализировать ответ своего напарника.



Карточка 1

К перекрёстку равнозначных улиц одновременно подъехали грузовой автомобиль, автобус и подошёл пешеход - мальчик.


1. Какое транспортное средство имеет право въезда на перекрёсток?
2. Как следует мальчику перейти перекрёсток, чтобы попасть в пункт А?



Карточка 2

К перекрёстку равнозначных улиц одновременно подъехали легковой автомобиль, грузовик, велосипедист и подошёл пешеход – мальчик.

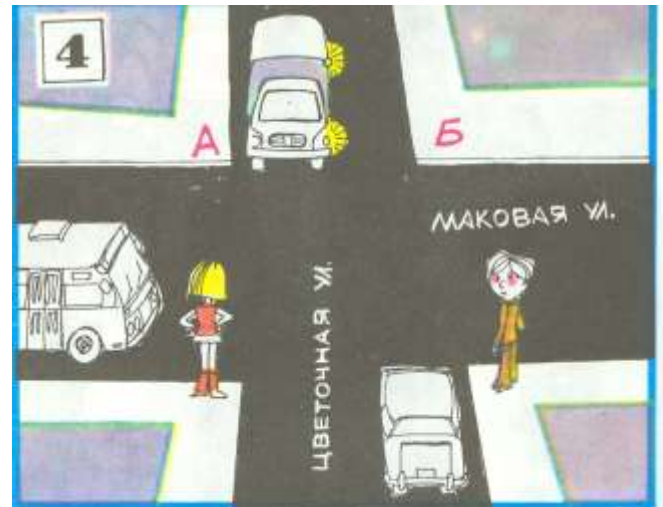
1. Какова очерёдность проезда перекрестка названными транспортными средствами?
2. Как должен мальчик перейти улицу, чтобы попасть в пункт А?



Карточка 3

К перекрёстку равнозначных улиц одновременно подъехали грузовик, автобус, легковой автомобиль и подошли пешеходы – мальчик и девочка.


1. Какова очерёдность проезда перекрёстка названными транспортными средствами?
2. Как должна девочка перейти улицу, чтобы попасть в пункт А?
3. Как должен мальчик перейти улицу, чтобы попасть в пункт Б?



Карточка 4

К перекрёстку равнозначных улиц одновременно подъехали автобус, грузовик, легковой автомобиль и подошли пешеходы – мальчик и девочка.

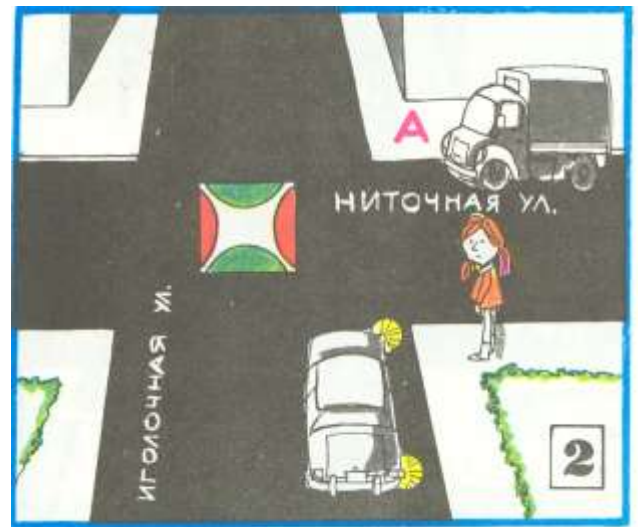
1. Какова очерёдность проезда перекрёстка названными транспортными средствами?
2. Как должна девочка перейти улицу, чтобы попасть в пункт А?
3. Как должен мальчик перейти улицу, чтобы попасть в пункт Б?



Карточка 1

К регулируемому перекрёстку одновременно подъехали автобус, легковой автомобиль и подошли пешеходы – мальчик и девочка. В светофоре зажёгся на улицу Метельную – зелёный сигнал, на улицу Грозovou – красный сигнал.


1. Какое транспортное средство имеет право на перекрёсток?
2. Как должен мальчик перейти улицу, чтобы попасть в пункт А?
3. Как должна девочка перейти улицу, чтобы попасть в пункт А?



Карточка 2

К регулируемому перекрёстку одновременно подъехали грузовик, легковой автомобиль и подошёл пешеход - девочка. В светофоре зажёгся со стороны Иголочной улицы зелёный сигнал, со стороны Ниточной улицы - красный сигнал.

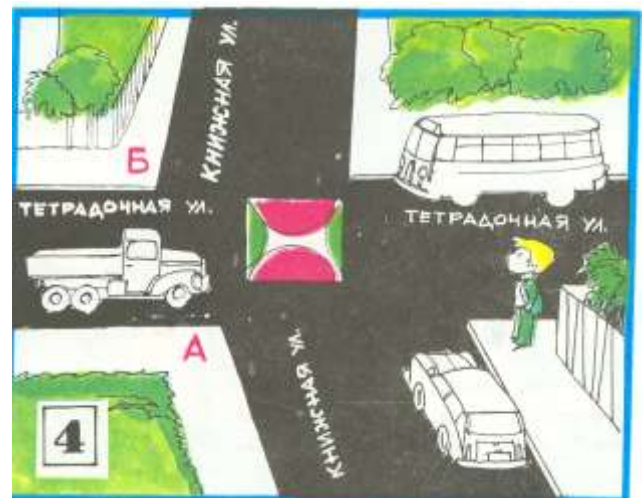
1. Какое транспортное средство имеет право на перекрёсток?
2. Как должна перейти улицу, чтобы попасть в пункт А?



Карточка 3

К регулируемому перекрёстку одновременно подъехали велосипедист, грузовик, легковой автомобиль и подошёл пешеход мальчик. В светофоре зажёгся со стороны Мышиной улицы зелёный сигнал, со стороны Медвежьей улицы – красный сигнал.

1. Какие транспортные средства имеют право выезда на перекрёсток?
2. Как должен мальчик перейти улицу, чтобы попасть в пункт А?



Карточка 4

К регулируемому перекрёстку одновременно подъехали автобус, грузовик, легковой автомобиль и подошёл пешеход - мальчик. В светофоре зажёгся со стороны Тетрадной улицы зелёный, со стороны Книжной улицы – красный.

1. Какие транспортные средства имеют преимущественное право выезда на перекрёсток?
2. Как должен мальчик перейти улицу, чтобы попасть в пункт Б?